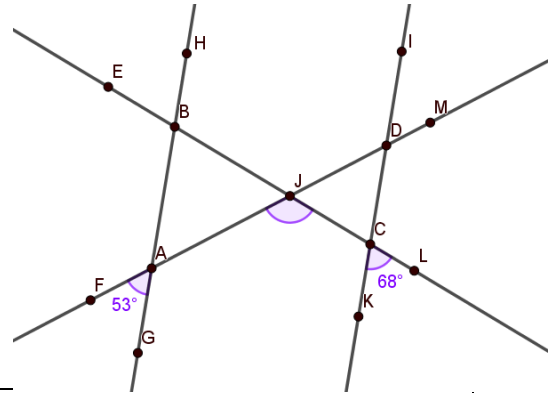


Nom : _____

Groupe : _____

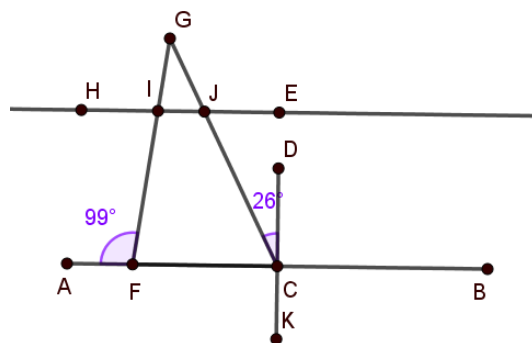
Chapitre 4 – Angles

1. Sachant que $\overline{GH} // \overline{KI}$, détermine la mesure de l'angle AJC



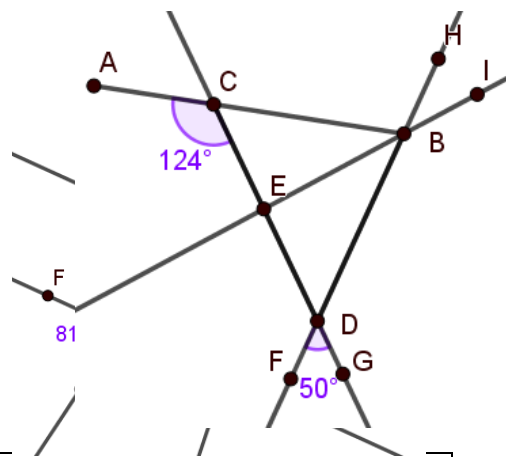
AFFIRMATION	JUSTIFICATION

2. Sachant que \overline{DK} est la médiatrice de \overline{AB} et que $\overline{HE} // \overline{AB}$, détermine les mesures des angles IGJ et IJC.



AFFIRMATION	JUSTIFICATION

3. Détermine la mesure de l'angle DEB sachant que \overline{DE} est la bissectrice de l'angle CBD.



AFFIRMATION	JUSTIFICATION

4. Détermine la mesure de l'angle EDI si $\overline{KB} // \overline{FL}$

AFFIRMATION	JUSTIFICATION
